

138. कक्षा के नेतृत्वकर्ता के रूप में, भयमुक्ता वातावरण बनाने के लिए, आप अपने पाठ की योजना निर्माता से किस प्रकार बनाएंगे?

- (A) विद्यार्थियों को सीखने योग्य जानकरी प्रदान करने हेतु
(B) विद्यार्थियों को आपस में चर्चा करने और जीव पड़ताल में शामिल करने हेतु
(C) यह सुनिश्चित करने हेतु कि विद्यार्थी स्वयं अध्ययन करें और सीखें
(D) ऐसा वातावरण देने हेतु जिसे विद्यार्थी सुन सकें

139. शिक्षा का अधिकार (RTE) अधिनियम, 2009 में किन कक्षाओं के लिए CCE को अनिवार्य बनाया गया?

- (A) कक्षा I से V (B) कक्षा VI से VIII (C) कक्षा I से VIII (D) कक्षा IX से XII
व्यक्ति का वह गुण जिससे यह पता चलता है कि वह समस्या को कितने तरीकों से समाधान करना जानता है -
कहा जाता है -

141. विद्यार्थियों में सामाजिक संवेदनशीलता पैदा करने के लिए किस तरह का अनुशासन सबसे प्रभावी है?

- (A) प्रभाववादी अनुशासन (B) लचीलापन (C) मौलिकता (D) विस्तार
(A) मुक्तिवादी अनुशासन (B) दमनकारी अनुशासन
(C) मौलिकता (D) आत्म-अनुशासन

142. एक विद्यार्थी की खुद की लिखी कविता रचनात्मकता के किस तत्व को दिखाती है?

- (A) मौलिकता (B) लचीलापन (C) विस्तार (D) प्रवाह
जब कोई शिक्षक अपने विद्यार्थियों को नकशा बनाने में दक्ष बनाना चाहता है, तो वह इसके लिए कौनसी शिक्षणनीति इस्तेमाल करेगा?

143. (A) व्याख्यान (B) प्रदर्शन (C) अभ्यास कार्य (D) भूमिका निगम
आपकी कक्षा का एक विद्यार्थी कक्षा में रुचि प्रदर्शित नहीं करता है, तो आप -

- (A) उसे दंड देंगे। (B) उसे कक्षा से बाहर निकाल देंगे।
(C) इसके पीछे के कारण का पता करेंगे। (D) उसे उसके हाल पर छोड़ देंगे।

144. शिक्षक मनीविज्ञान के अनुसार, व्यावसायिक दृष्टिकोण किस प्रभावित करता है?

- (A) केवल शिक्षक (B) केवल प्रशासन (C) केवल विद्यार्थी (D) विद्यालय भवन
(A) पूर्वग्रह एवं विश्वास (B) ज्ञान एवं राय (C) रुचि एवं विश्वास (D) विश्वास एवं व्यवहार

145. शिक्षण-अभिराम प्रक्रिया निम्नलिखित में से कौनसा शिक्षक के व्यावसायिक दृष्टिकोण का मूल घटक है?

- (A) पूर्वग्रह एवं विश्वास (B) ज्ञान एवं राय (C) रुचि एवं विश्वास (D) विश्वास एवं व्यवहार
(A) व्यक्तिगत सुविधा (B) विद्यार्थियों के प्रति प्रतिबद्धता
(C) आर्थिक लाभ (D) सामाजिक प्रतिष्ठा

146. प्राथमिक विद्यालय के शिक्षक का व्यावसायिक दृष्टिकोण मुख्य रूप से किस गुण को दर्शाता है?

- (A) व्यक्तिगत सुविधा (B) विद्यार्थियों के प्रति प्रतिबद्धता
(C) आर्थिक लाभ (D) सामाजिक प्रतिष्ठा
(A) कक्षा के नेता के रूप में तब सफल होता है, जब उसकी अनुपस्थिति में भी -
(B) कक्षा के विद्यार्थी आपस में बातचीत में व्यस्त हों।
(C) विद्यार्थी अपना काम करने में व्यस्त हों।
(D) विद्यार्थी खेलों में व्यस्त हों।

147. एक शिक्षक कक्षा के नेता के रूप में तब सफल होता है, जब उसकी अनुपस्थिति में भी -

- (A) कक्षा के विद्यार्थी आपस में बातचीत में व्यस्त हों।
(B) कक्षा के विद्यार्थी अपना काम करने में व्यस्त हों।
(C) विद्यार्थी खेलों में व्यस्त हों।
(D) विद्यार्थी शिक्षा के लिए कौनसी विधि, सबसे उपयुक्त है?

148. मूल्य शिक्षा के लिए कौनसी विधि, सबसे उपयुक्त है?

- (A) व्याख्यान विधि (B) अभ्यास विधि
(C) श्रुतलेख विधि (D) कहानी सुनाने की विधि
(A) संप्रेषण एक प्रक्रिया है - (B) आदेश देने की
(C) विद्यार्थी व सूचना का आदान-प्रदान करने की (D) केवल सुनने की

Part - D
LANGUAGE PROFICIENCY : ENGLISH

Read the following passage and answer the questions 151-154 -

A British survey found that 44 percent of firms, which started to use robots met with initial failure and 22 percent abandoned them altogether, mainly because of inadequate technological know-how and skills at all plant levels.

Robotisation is by and large a viable proposition. These machines can work round the clock, raise output, protect the quality and industrial competitiveness.

Certain production jobs, mostly simple or hazardous ones, are irretrievably lost to robotics. Thus, spot welders, spray painters, cleaners, machine loaders, grinding and polishing machine operators are endangered species.

151. Robots are a substitute for -
 (A) planners
 (B) production workers
 (C) motor cars
 (D) endangered species
152. 'A viable proposition' is -
 (A) a workable idea
 (B) a fanciful idea
 (C) an imaginative idea
 (D) an endangered idea
153. What do you mean by 'robotisation'?
 (A) Making robots
 (B) Marketing robots
 (C) Introduction of robots
 (D) Replacement of humans with robots
154. What does the writer say regarding initial failure?
 (A) 50 percent are using robots.
 (B) British companies stopped the use of robots.
 (C) 22 percent have abandoned the use of robots.
 (D) All of the above
155. Mark the most appropriate one-word substitution for the following -
 'Undue favour shown by a person in power to his relatives.'
 (A) Misanthroe
 (B) Flagrant
 (C) Perquisition
 (D) Nepotism
156. Put the following into indirect speech -
 Rahul asked Raj, "Why have you not allowed the book to be published?"
 (A) Rahul asked Raj that why have the book not been published.
 (B) Rahul asked Raj why he had not allowed the book to be published.
 (C) Rahul asked Raj why he had not allowed the book to be published.
 (D) Rahul asked Raj why they have not allowed the book to be published.
157. Complete the sentence with suitable Articles -
 Rahul asked Raj why they have not allowed the book to be published.
 (A) a, the, the
 (B) the, the, the
 (C) a, a, the
 (D) a, a, a
158. Find out the correct spelling -
 (A) Variagated
 (B) Varegated
 (C) Varegated
 (D) Varigated
159. Complete the sentence with suitable Article -
 France is European country.
 (A) a
 (B) an
 (C) the
 (D) no article

126. कक्षाकक्ष में विद्यार्थियों की रचनात्मकता विकसित करने का सबसे अच्छा तरीका कौनसा रहेगा?

- (A) रचनात्मकता विकसित करने के तरीकों पर भाषण
(B) रचनात्मकता के उदाहरण देना

(C) रचनात्मकता के लिए प्रोत्साहित करना
(D) रचनात्मकता विकसित करने के लिए हथौड़े से की जाने वाली गतिविधि

127. आपकी कक्षा का एक विद्यार्थी हमेशा अनोखे प्रश्न करता है, तो आप -

- (A) उसे चुप रहने को कहेंगे।
(B) उसे बार-बार प्रश्न पूछने पर डांट लगायेंगे।

(C) उसके अनोखे प्रश्नों के पीछे उसकी सृजनशीलता की पहचान करेंगे।
(D) उसे अलग मिलने को कहेंगे।

128. सकारात्मक कक्षा वातावरण बनाए रखना किसकी जिम्मेदारी है?

- (A) छात्रों की
(B) विद्यालय प्रशासन की
(C) शिक्षकों की
(D) अभिभावकों की

129. शिक्षण में सामाजिक संवेदनशीलता मुख्यतः किससे संबंधित है?

- (A) कठोर अनुशासन
(B) शिक्षार्थी की पृष्ठभूमि की समझ
(C) विषयवस्तु पूर्णता
(D) पेशेवा निर्यात

130. सामाजिक संवेदनशीलता है -

- (A) दूसरों के प्रति सहानुभूति रखने की क्षमता
(B) दूसरों की स्थिति को समझने की क्षमता
(C) दोनों (A) और (B)
(D) न तो (A) और न ही (B)

131. 'संदेश में सभी जरूरी जानकारी होनी चाहिए।' 'संश्लेषण की शक्ति का यह मूल सिद्धान्त निम्नलिखित में से किससे संबंधित है?

- (A) स्पष्टता
(B) सक्षिप्तता
(C) पूर्णता
(D) वेसपन

132. निम्नलिखित में से कौन शिक्षण अधिगम प्रक्रिया का तत्व नहीं है?

- (A) शिक्षक
(B) शिक्षार्थी
(C) माता-पिता
(D) पाठ्यचर्या

133. आप अपने विद्यार्थियों के भावनात्मक एवं मनोगत्यात्मक पक्ष के विकास का आकलन करने हेतु क्या करना चाहेंगे?

- (A) एक मनोवैज्ञानिक परीक्षण प्रशासित करेंगे
(B) मनोचिकित्सक द्वारा जाँच करायेंगे
(C) निरन्तर साहित्यिक, सांस्कृतिक, खेलकूद गतिविधियों का आयोजन करायेंगे
(D) उपलब्ध परीक्षण प्रशासित करेंगे

134. कौनसी नेतृत्व शैली अनुयायियों को अपनी क्षमता पहचानने के लिए प्रोत्साहित करती है?

- (A) आदिम नेतृत्व
(B) प्रेरणादायक नेतृत्व
(C) लेन-देन संबंधी नेतृत्व
(D) नैकरशाही नेतृत्व

135. सामाजिक संवेदनशीलता का मतलब है -

- (A) दूसरों की भावनाओं और विचारों को समझने की क्षमता
(B) दूसरों के बारे में बात करने की क्षमता
(C) सामाजिक अंतःक्रिया के संकेतों को समझने की क्षमता
(D) सामाजिक अभिवृत्ति को पहचानने की क्षमता

136. एक लोकतांत्रिक नेता सामान्यतः -

- (A) अकेले निर्णय लेता है
(B) सहभागिता को प्रोत्साहित करता है
(C) कठोर नियंत्रण रखता है
(D) उत्तरदायित्व से बचता है

137. मिस नीना ने विद्यार्थियों से अखबार के विभिन्न उपयोगों के बारे में बताने को कहा। रेहान ने अखबार के मिस नीना ने विद्यार्थियों को बताकर यह खेल जीत लिया। इस खेल के माध्यम से मिस नीना ने रचनात्मकता के किस घटक को संबोधित किया?

- (A) प्रवाह
(B) लचीलापन
(C) मौलिकता
(D) विस्तार

185. "वर्षा गुप्त भाषा भाषा" वाक्य किस प्रकार का है?
 (A) विशान्शक (B) आशान्शक
 (C) इशान्शक (D) संकेतशक
186. सवि विरुद्ध की दृष्टि से सही विकल्प नहीं है -
 (A) सन + वय = संवय
 (C) वाक + मय = वाक्मय
187. "चोरने की इच्छा" कर्त्ताही है -
 (A) लिप्सा (B) विगीषा
 (C) गुणसा (D) विगीषिषा
188. निम्न में से शुद्ध वाक्य है -
 (A) बेटी में सुद हो गया।
 (B) इस भीर की दो-चार लड़ियों युवा दो।
 (C) तिष्ठियों की मंडली सारी फसल घट कर गई।
 (D) गोलियों की बौझर के सामने कोई टिक न सका।
189. इनमें से अशुद्ध शब्द कौनसा है?
 (A) महेश्वर्य (B) चक्रवाणी
 (A) वृद्धि (B) गुण (C) लापण्य (D) कवशिनी
190. "महीषर" शब्द में कौनसी संधि है?
 (A) गुण (B) यण
191. इदं समास का उदाहरण है -
 (A) नीलकंठ (B) कपड़े-लत्ते
192. "चंद्रमा" का पर्यायवाची नहीं है -
 (A) हिमांशु (B) सुधाशु (C) शिशुवन (D) महाजन
193. इनमें से अशुद्ध वाक्य कौनसा है?
 (A) ये मेरे ही इस्लाभर हैं।
 (B) यह अपनी धुन में जा रहा था।
 (C) पास के मारे उसका प्राण निकल गया।
 (D) उसकी भुजाएँ घुटनों तक लम्बी हैं।
194. इनमें से किस विकल्प में परस्पर विलोम शब्द नहीं हैं?
 (A) उत्कर्ष - अपकर्ष (B) उत्थान - पतन (C) उदयत - विनीत (D) इष्ट - अभीष्ट
195. किस विकल्प में गलत संधि है?
 (A) तत् + लीन = तल्लीन (B) तत् + ह्रिा = तद्ध्रित
 (A) वृष + ना = वृज्ना (D) एक + एक = एकेक
196. "तडाक-तडाग" शब्द युग्म का सही अर्थ है -
 (A) जल्दी - तालाब (B) दुर्बल - तालाब (C) जल्दी - तगाड़ा (D) तालाब - जल्दी
197. "रश्त-रश्द" युग्म शब्दों का सही अर्थ है -
 (A) सफेद - धागा (B) सफेद - कान (C) सफेद - पसीना (D) सफेद - समता
198. "लापव" शब्द में प्रत्यय है -
 (A) अ (B) व (C) अत् (D) घत्
199. किस शब्द में "नि" उपसर्ग नहीं है?
 (A) निमग्न (B) निरवल (C) निवारण (D) निषेध
200. "वणिजर्ग" शब्द में संधि है -
 (A) गुण संधि (B) अगादि संधि (C) व्यंजन संधि (D) विसर्ग संधि

160. Which connective is correct?
..... he is intelligent, he is humble.

~~(A) Although~~

~~(B) But~~

(C) Yet

(D) As well as

161. Complete the following sentence -
If you answer the questions correctly

(A) you were the winner.

~~(C) you have been the winner.~~

(B) you could be the winner.

(D) you could have been the winner.

162. Find the Antonym for 'Acquit' -

(A) Convict

(B) Disclose

(C) Adjudge

~~(D) Imprison~~

163. Find the synonym for 'Veracity' -

~~(A) Audacity~~

(B) Perfection

(C) Judgement

(D) Truth

164. Which part has error in it?

Despite for her protests/ I decided/ to buy the saree/ which she did not like.

(A) Despite for her protests

(C) to buy the saree

~~(B) I decided~~

(D) which she did not like

165. Which of the following means 'a middle course'?

(A) By the way

~~(C) Via media~~

(B) Through communication

(D) The right order

166. Which of the following Question Tag is correct for the sentence?
We're doing it the right way,

(A) aren't we?

(B) are we?

~~(C) do we?~~

(D) don't we?

167. Find out the word with correct spelling -

~~(A) Supperannuation~~

(B) Superannuation

(C) Supperannation

(D) Superannuation

168. Correct the following sentence -
If I were you, I will never give up.

(A) If I was you, I will never give up.

(C) If I were you, I would never give up.

~~(B) If I were you, I was never give up.~~

(D) If I were you, I will never have give up.

169. Choose the compound sentence -

(A) You must take rich diet to gain weight.

(B) You must take rich diet or you will not gain weight.

~~(C) You must take rich diet in order to gain weight.~~

(D) You will gain weight by taking rich diet.

170. Identify the one underlined expression (A, B, C or D) that must be changed in order to correct the sentence -
None of the children wants to be in the group that has to stay inside because everyone prefer to go outside and play.

(A) A

A

B

C

(A) A

D

(B) B

(C) C

~~(D) D~~

ब्राह्मण
श्रौत
स्मृतिसूत्र

भाग - 4
भाग योग्यता : हिन्दी

171. कर्कश" शब्द का विलोम शब्द है -
 (A) मधुर (B) सर्कस (C) निष्ठुर (D) कसूरवार
172. इनमें से किस विकल्प में परस्पर विलोम शब्द नहीं हैं?
 (A) अनन्त - सान्त (B) अथ - आदि (C) अग्रज - अनुज (D) अज्ञ - विज्ञ
173. "शोड़ी वस्तु से बड़ा काम नहीं हो सकता।" को दर्शाने वाली लोकोक्ति है -
 (A) चूहों की सीत, दिल्ली का खेल। (B) चूहे का बच्चा बिल ही खादता है।
 (C) चोट्टी कुरिया जलेबियों की रखवाली। (D) चूहों के घाम से कहीं नगाड़े मढ़े जाते हैं।
174. "अभ्यागत" शब्द में कौनसा उपसर्ग है?
 (A) अभी (B) अग्र्य (C) अभि (D) अ
175. किस विकल्प के सभी शब्द शुद्ध हैं?
 (A) नीरोग, व्रतान्त (B) अत्युक्ति, ज्योत्स्ना (C) दुर्व्यसन, अनुग्रह (D) इन्द्र, समृद्ध
176. उर्दू उपसर्ग से बना शब्द है -
 (A) अशकब्दा (B) औगुन (C) सुजौल (D) बाकायदा
177. मुहावरे और उनके अर्थ की दृष्टि से सही विकल्प नहीं है -
 (A) नाकों चने चबाना - खूब तंग करना (B) निर्यानवे का फेर - अनुभव शून्य होना
 (C) पगड़ी उछालना - अपमान करना (D) दूज का चोंद - कठिनाई से दर्शन देना
178. "ईंट की लेनी, पत्थर की देनी" लोकोक्ति का अर्थ होता है -
 (A) जिसकी करनी उसी को फल मिलता है। (B) समय शीत जाने पर काम करना।
 (C) दुष्टता के बदले और अधिक दुष्टता। (D) जैसा व्यक्ति वैसी आत्मगत।
179. अशुद्ध शब्द है -
 (A) दुरावस्था (B) द्रवीभूत (C) नूपुर (D) अन्त्याक्षरी
180. जिस वाक्य में दो या दो से अधिक साधारण वाक्य या प्रधान उपवाक्य या समानाधिकरण उपवाक्य, किसी संयोजक शब्द से जुड़े हों, उसे कहते हैं -
 (A) साधारण वाक्य (B) मिश्र वाक्य (C) संयुक्त वाक्य (D) संज्ञा उपवाक्य
181. "खटाई में पड़ना" मुहावरे का अर्थ होता है -
 (A) लड़ाई में मारे जाना (B) मारे-मारे फिरना
 (C) काम होने में देरी या संदेह होना (D) साफ-साफ बात कहना
182. निम्न में से किस विकल्प में सभी शब्द परस्पर पर्यायवाची नहीं हैं?
 (A) माधव, दामोदर, मुकुंद (B) चपला, विशिख, विहग
 (C) नरेश, महीप, महीपति (D) आदित्य, दिवाकर, प्रभाकर
183. इनमें से शुद्ध वाक्य है -
 (A) मैंने तुम्हारी बहुत प्रतीक्षा की। (B) मेरे को तो निबंध लिखने हैं।
 (C) हम रात में भोजन खाते हैं। (D) बालक फिटवाई और दूध पीकर सो गया।
184. "इकतीस" शब्द में कौनसा समास है?
 (A) बहुव्रीहि (B) द्विगु (C) कर्मधारय (D) इन्द्र

101. "संस्कारमय मूल्यांकन" शब्द का सही अर्थ है?
 (A) शिक्षण की प्रक्रिया में विद्यार्थियों का मूल्यांकन
 (B) शिक्षण प्रक्रिया के दौरान विद्यार्थियों का मूल्यांकन
 (C) शिक्षण प्रक्रिया के बाद विद्यार्थियों का मूल्यांकन
 (D) सत्र के अंत में विद्यार्थियों का मूल्यांकन
102. "मूल्यांकन" शब्द का क्या अर्थ है?
 (A) मापन
 (B) मूल्य निर्धारण
 (C) मापन और मूल्य निर्धारण
 (D) न तो मापन और ना ही मूल्य निर्धारण
103. निम्नलिखित में से कौनसा शब्द, अधिगम की प्रकृति का वर्णन नहीं करता है?
 (A) प्रक्रिया
 (B) उत्पन्न
 (C) उद्देश्यपूर्ण
 (D) सतत
104. संस्थापक के रूप में शिक्षक का अर्थ है -
 (A) अधिगम प्रक्रिया में शिक्षार्थियों को मार्गदर्शन देना
 (B) तैयार उत्तर देना
 (C) कक्षा पर प्रभुत्व बनाना
 (D) छात्रों की अंतःक्रिया सीमित करना
105. शिक्षा में लैंगिक पक्षपात का परिणाम होता है -
 (A) सामाजिक अन्धकार
 (B) समान अवसर
 (C) समतल विकास
 (D) सतृप्त विकास
106. अपराधी चिंतन का संबंध किससे है?
 (A) सृजनत्मकता
 (B) बुद्धिमत्ता
 (C) स्मृति
 (D) शिक्षक की भूमिका
107. CCE का उद्देश्य किसे कम करना है?
 (A) अधिगम अवसर
 (B) छात्र सहभागिता
 (C) परीक्षा तनाव
 (D) छात्र सहभागिता
108. निम्नलिखित में से कौनसी CCE में सतत मूल्यांकन की विशेषता नहीं है?
 (A) नियमित मूल्यांकन
 (B) इकाई परीक्षण की आवृत्ति
 (C) परीक्षा तनाव
 (D) सीखने की कर्मियों का निदान
109. एक सफल अध्यापक वह है, जो -
 (A) विद्यार्थियों को सीखने के लिए प्रेरित करे।
 (B) समय से पहले कोर्स पूरा कर दे।
 (C) विद्यार्थियों को नोट्स तैयार करने में सहयोग करे।
 (D) विद्यार्थियों को फेल करने में विश्वास नहीं करे।
110. दो या दो से अधिक व्यक्तियों के बीच होने वाला ऐसा सम्प्रेषण, जो इनके बीच सम्प्रेषणीय सम्बन्ध स्थापित करता है, कहलाता है -
 (A) अंतरा वैयक्तिक संघार
 (B) पारस्परिक संघार
 (C) जनसमर्क संघार
 (D) निर्देशित करना
111. एक प्रभावी नेता के लिए निम्नलिखित में से कौनसा आवश्यक गुण है?
 (A) शांति
 (B) विरासत
 (C) पहल
 (D) पद
112. निम्नलिखित में से कौनसा रचनात्मक बन्धन का गुण नहीं है?
 (A) बुद्धिमत्ता
 (B) निरंतरता
 (C) आत्मविश्वास
 (D) मौलिक विचार
113. शिक्षक का व्यावसायिक दृष्टिकोण सबसे अधिक किसमें सहायक होता है?
 (A) अनुशासन बनाए रखने में
 (B) विद्यार्थियों के अधिगम में सुधार करने में
 (C) कार्यभार कम करने में
 (D) छुट्टियों बढ़ाने में

114. सृजनात्मकता को विकसित करने में शिक्षक की भूमिका है -
 (A) कठोर नियम लागू करना
 (B) तैयार उत्तर देना
 (C) रटते अभियम पर बल देना
 (D) खोज एवं प्रश्न पूछने को प्रोत्साहित करना
115. निर्माणत्मक मूल्यांकन का उद्देश्य है -
 (A) छात्रों को रैंक देना
 (B) अंतिम परिणाम आंकना
 (C) प्रतिस्पर्धा बढ़ाना
 (D) अभियम प्रक्रिया में सुधार करना
116. सीखने के संदर्भ में निम्नलिखित में से कौनसा कथन सही नहीं है?
 (A) सभी बच्चे स्वाभाविक रूप से सीखने के लिए प्रेरित होते हैं।
 (B) बच्चे कई तरीके से सीखते हैं।
 (C) सभी बच्चे सीखने में सक्षम होते हैं।
 (D) मध्यस्थता के बिना सीखना संभव नहीं है।
117. सक्रिय श्रवण का अर्थ है -
 (A) श्रवण प्रतिक्रिया सुनना
 (B) वक्ता को बाधित करना
 (C) ~~समझना~~ व प्रतिक्रिया देना
 (D) संदेश की अनदेखी करना
118. कौनसा कारक शिक्षक के व्यावसायिक दृष्टिकोण को नकारात्मक रूप से प्रभावित करता है?
 (A) निरंतर प्रशिक्षण
 (B) प्रेरणा
 (C) ~~कार्य असंतोष~~
 (D) विद्यार्थियों की सहभागिता
119. जब कोई शिक्षक विद्यार्थियों को कुछ जानकारी देना चाहता है, तो कौनसी सम्प्रवण कौशल का इस्तेमाल किया जाएगा?
 (A) बोलना और लिखना
 (B) बोलना और पढ़ना
 (C) पढ़ना और लिखना
 (D) बोलना और सुनना
120. अभियम की प्रक्रिया में, इनाम किस तरह का प्रेरक है, जो शिक्षक विद्यार्थियों को देता है?
 (A) बाहरी
 (B) आंतरिक
 (C) जैव-जनित
 (D) शारीरिक
121. विभिन्न पृष्ठभूमियों वाले और व्यापक रूप से फैले श्रोताओं के लिए निम्नलिखित में से कौनसा संवार प्रकार उपयुक्त है?
 (A) अंतर्व्यक्तिक संवार
 (B) अंतरा वैयक्तिक संवार
 (C) समूह संवार
 (D) जनसंवार
122. व्यावसायिक रूप से प्रतिबद्ध शिक्षक यह मानता है कि शिक्षण है -
 (A) एक नौकरी
 (B) एक सामाजिक उत्तरदायित्व
 (C) जीविकाप्राप्तन का एक साधन
 (D) शक्ति का एक साधन
123. निम्नलिखित में से कौनसा कथन यह प्रदर्शित करता है कि विद्यार्थी संवेदनशील हैं?
 (A) उनमें केवल शाब्दिक अभिव्यक्तियों के माध्यम से भावनाओं और विचारों को समझने की क्षमता है।
 (B) उनमें केवल अशाब्दिक अभिव्यक्तियों के माध्यम से भावनाओं और विचारों को समझने की क्षमता है।
 (C) उनमें अपने पूर्वाग्रह के आधार पर स्वयं को और दूसरों को स्वीकार करने की क्षमता है।
 (D) उनमें शाब्दिक और अशाब्दिक अभिव्यक्तियों के माध्यम से भावनाओं और विचारों को समझने की क्षमता है।
124. निम्नलिखित में से कौनसा विकल्प विद्यार्थियों में सामाजिक संवेदनशीलता विकसित करने में शिक्षक की भूमिका का वर्णन करता है?
 (A) प्रशासक
 (B) प्रबंधक
 (C) जाँचकर्ता
 (D) प्रेरक
125. सूचना भेजने वाले से जानकारी पाने के लिए इनमें से किस तरीके का इस्तेमाल किया जाता है?
 (A) सुनना
 (B) बोलना
 (C) बताना
 (D) लिखना

27. निम्न प्रश्न के लिए सही विकल्प को चुनिए -
गाय : शैल :: घोड़ी :

- (A) जानवर (B) कृषा

~~(C) घोड़ा~~

(D) मॉस

28. सबसे उपयुक्त विकल्प चुनें -
125 : 216 :: ? : 512

- (A) 260 (B) 300

(C) 312

~~(D) 343~~

29. एक बड़े शहर के नेटवर्क पर साइबर-अटैक हुआ, जिससे सेनाएं ठप हो गईं।
कार्टवार्ड के लक्ष्य के हैं -

- (I) अधिकारियों को पुरत सभी नेटवर्क बंद कर देने चाहिए।
(II) IT टीम को कमजोरी का पता लगाकर उसे ठीक करना चाहिए।

- (A) सिर्फ (I) ~~(B) सिर्फ (II)~~
(C) न तो (I) और न ही (II) (D) (I) और (II) दोनों

30. प्रश्न चिह्न के स्थान पर कौनसी विकल्प आकृति आएगी?




गमला



पौधा



धागा



?



(A)

रुई




(B)

रेश



(C)

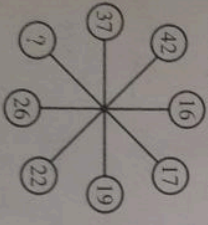
कैंची



(D)

कपास

31. निम्न प्रश्न में विवृत संख्या खोजिए -



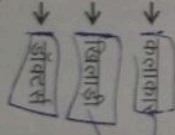
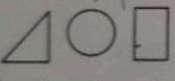
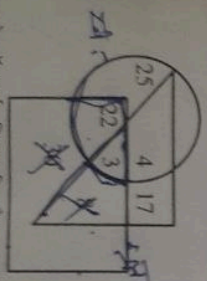
(A) 30

(B) 25

(C) 27

~~(D) 31~~

32. निम्न रेखाचित्र का अध्ययन करके नीचे दिए गए प्रश्न का उत्तर दीजिए -



(A) 22

(B) 8

~~(C) 3~~

(D) 30

कितने शिकारी, खिलाड़ी और कलाकार होंगे ?

10. अमन का परिचय देते हुए रेखा ने कहा - "उसकी पत्नी भरे पिता की इकलौती बेटा है"। अमन रेखा से किस प्रकार संबंधित है?

(A) देवर/साला

(B) पति

(C) पिता

(D) दामाद

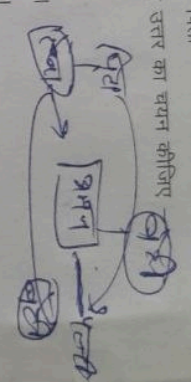
11. नीचे कथन (I) एवं कथन (II) दिए गए हैं। उनको पढ़कर सही उत्तर का चयन कीजिए।
कथन : (I) ऑनलाइन शॉपिंग में काफी बिकोतरी हुई है।
(II) कई स्थानीय रिटेल दुकानें बंद हो रही हैं।

(A) कथन (I) कारण है और कथन (II) उसका परिणाम है।

(B) कथन (II) कारण है और कथन (I) उसका परिणाम है।

(C) दोनों कथन (I) और (II) स्वतंत्र कारण हैं।

(D) दोनों कथन (I) और (II) स्वतंत्र कारणों के परिणाम हैं।



12. निम्नलिखित अक्षरों को पुनर्व्यवस्थित (Rearrange) करने पर बनने वाले शब्द का आखिरी अक्षर क्या है?

C, P, A, O, E, C, K (A bird)

(A) E

(B) K

(C) P

(D) C

13. यदि VOTER = 41352, HEATER = 743654, TEASER = 645834 है, तो कौनसी संख्या "S" का प्रतिनिधित्व करती है?

(A) 1

(B) 5

(C) 8

(D) 7

14. शब्दों का विषम जोड़ा चुनें -

(A) गाय : बछड़ा

(C) शेर : शावक

(B) कुत्ता : कुतिया

(D) कछुआ : नन्दा कछुआ

15. निम्नलिखित में से कौनसा समूह से संबंधित नहीं है?

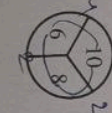
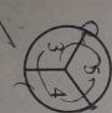
(A) ZA

(B) XC

(C) VE

(D) MG

16. विलुप्त संख्या को पहचानिए - 24 3



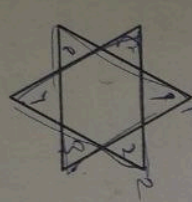
(A) 15

(B) 18

(C) 20

(D) 13

17. दी गई आकृति में त्रिभुजों की संख्या कितनी है?



(A) 6

(B) 8

(C) 10

(D) 12

A-4
S-7
T-1
U-1
V-1
W-1
X-1
Y-1
Z-1
22-5

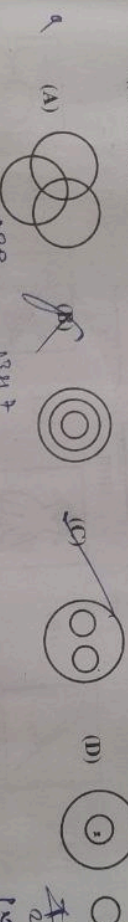
18. निम्न में से कौनसा निम्न है? (A) काटकास्य (B) स्काइज (C) स्तूपचैत (D) निवड्डन

19. एक परिवार में छः सदस्य हैं G, H, I, J, N, O जिसमें से तीन महिलाएँ और एक विवाहित जोड़ा है। G, I की माँ है और J, I का बेटा है। H, G का पति है और I उसका बेटा है जबकि O उसकी बेटी है। महिलाओं के समूह में कौन शामिल है? (A) N, W, I (B) G, H, I (C) N, O, G (D) G, N, J

20. दी गई श्रृंखला में ऐसे कितने 7 हैं जिनके ठीक पहले 6 आता है लेकिन उनके ठीक बाद 8 नहीं आता है? 3, 4, 8, 7, 6, 1, 5, 6, 7, 8, 4, 9, 6, 7, 5

21. वह संख्या पहचानिए जो दिए गए घेदर में फिट बैठती है - (A) 1 (B) 2405 (C) 2409 (D) 2415

22. निम्नलिखित में से कौनसा आरेख एक शिक्षक (Teacher), एक लेखक (Writer) और एक कलाकार (Artist) के बीच सर्वश्रेष्ठ संबंध को दर्शाता है?



23. यदि E = 5 और BAT = 23 है तो MUG = (A) 41 (B) 53 (C) 57 (D) 62

24. एक खास भाषा में DEBU को 45721 और MANSI को 13114199 कोड किया जाता है। उसी भाषा में RAJVEER को कैसे कोड किया जाएगा? (A) 16100225588 (B) 17111222555 (C) 18011252581 (D) 18110225518

25. दूसरे युग की दूसरी सादृशता ज्ञात करने के लिए उसी समन्वय का उपयोग करें - 16:2::256:..... (A) 4 (B) 6 (C) 5 (D) 7

26. एक MNC में 1000 कर्मचारियों को यादृच्छिक रूप से चुना गया। 500 को चाय पसंद है, 380 को कॉफी पसंद है और 120 को चाय और कॉफी दोनों पसंद हैं। निम्न का मिलान करें -

- कितने लोगों को सिर्फ चाय पसंद है? (i) 760
- कितने लोगों को सिर्फ कॉफी पसंद है? (ii) 640
- कितने लोगों को न तो चाय पसंद है और न ही कॉफी? (iii) 240
- कितने लोग चाय या कॉफी में से केवल एक ही चीज पसंद करते हैं? (iv) 260
- कितने लोगों को कम से कम एक पेय पसंद है? (v) 380

27. (A) (1)-(i), (2)-(ii), (3)-(iii), (4)-(iv), (5)-(v) (B) (1)-(v), (2)-(iv), (3)-(iii), (4)-(ii), (5)-(i)
28. (A) (1)-(ii), (2)-(iii), (3)-(i), (4)-(v), (5)-(iv) (D) (1)-(iii), (2)-(i), (3)-(ii), (4)-(iv), (5)-(v)

[1001]

41. 'अभियंता' (Engineer) जिस तरह 'उत्पादन' (Production) से सम्बन्धित है, उसी तरह 'डॉक्टर' (Doctor) सम्बन्धित है -

- (A) उपचार अस्पताल (B) शरीर सर्जरी

42. अजीब, भ्रष्टाचार के विरोधी हैं, जो विज्ञान की पुरानी है और विज्ञान परतन की पुरानी है। अजीब का परतन से क्या संबंध है?

- (A) पुत्र पुत्री (B) दामाद (C) दामाद (D) बहू

43. यदि बिट्टू कहता है, "आरती की माँ मेरी माँ की बकालीकी बही है।" तो बिट्टू का आरती से क्या रिश्ता है?

- (A) भाभा चाचा (B) दादा (C) पिता

44. यदि अपरिचित, भूमि का भाई है और भूमि, वैतन्य की बहन है, तो अपरिचित का वैतन्य से क्या संबंध है?

- (A) भाई माँ (B) पिता (C) बहन

45. यदि '+' का आशय 'x', '-' का आशय '+', 'x' का आशय '-' और '-' का आशय '+' हो, तो $20 + 10 \times 20 \div 4 - 10$ का मान होगा -

- (A) 8 (B) 16 (C) 32 (D) 17

46. एक सुबह, ऋतिक पूर्व दिशा में 2 कि.मी. चलता है, फिर दाहिनी ओर मुड़कर 3 कि.मी. चलता है, फिर बाईं ओर मुड़कर 2 कि.मी. चलता है। अब वह किस दिशा की ओर मुख करके खड़ा है?

- (A) दक्षिण (B) उत्तर (C) पश्चिम (D) पूर्व

57. यदि शब्द 'दिये' गये हैं जिनमें से तीन किसी न किसी रूप में एक जैसे हैं, जबकि चौथा अलग है। शिथल (अलग) शब्द का चयन करें -

- (A) भावना (B) खुशी (C) शिथल (D) पुराना

48. यदि $ACE = 15$ है और $BDF = 48$ है, तो HIL क्या होगा?

- (A) 960 (B) 710 (C) 698 (D) 250

49. A, P, R, X, S और Z एक पंक्ति में बैठे हैं। S और Z के बीच में है, A और P किनारे पर हैं। R, A के बायीं ओर बैठा है। P के दाहिने ओर कौन बैठा है?

- (A) S (B) X (C) Z (D) R

50. दिये गये चार घंटे में से वह घंटे चुनो जो शेष दिये गये घंटे के समान हैं -

- (A) 3:11:18 (B) 18:25:32 (C) 18:27:72 (D) 7:14:28

51. 1990 के दशक (1990 से 1999) के दौरान, निर्मांकित में से किसने राजस्थान के मुख्यमंत्री का पद धारण नहीं किया?

- (A) हरि देव जोशी
(C) भैरो सिंह शेखावत

- (B) शिव चरण माथुर
(D) अशोक गहलोत

52. इनमें से किस महिला स्वतंत्रता सेनानी को उनके राजनीतिक और सामाजिक सुधार कार्यों के कारण 'हूंदी से निष्कासित किया गया था'?

- (A) नरोन्द्र बाला
(C) शांता त्रिवेदी

- (B) जानकी देवी बजाज
(D) अंजना देवी चौधरी

53. राजस्थान के महान चित्रकार मोरखज निहालचंद चित्रकला की किस शैली से संबंधित थे?

- (A) दीकानेर शैली

- (B) जयपुर शैली

- (C) बूंदी शैली

- (D) किशनगढ़ शैली

54. हमसीढ़ी क्या है?

- (A) भीलों द्वारा गाया जाने वाला गीत

- (B) भीणा द्वारा गाया जाने वाला गीत

- (C) मांगणियां द्वारा गाया जाने वाला गीत

- (D) लंगा द्वारा गाया जाने वाला गीत

55. लोक-देवताओं के सही समूह को पहचानिए, जिनकी पंच पीरों के रूप में राजस्थान में पूजा की जाती है -

- (A) पाबूजी, तेजाजी, कल्लाजी, गोगाजी, देवनारायणजी
(B) देवनारायणजी, रामदेवजी, हड़बूजी, मल्लीनाथजी, कल्लाजी

- (C) गोगाजी, पाबूजी, रामदेवजी, मेहाजी, गोगाजी
(D) पाबूजी, मल्लीनाथजी, मेहाजी, गोगाजी, तेजाजी

56. राजस्थान में अरावली पर्वत श्रेणी की दूसरी सर्वोच्च चोटी है

- (A) अचलगढ़

- (B) सज्जनगढ़

- (C) जरगा

- (D) सैर

57. बांध और जिस नदी पर इसे निर्मित किया गया है, के त्रुटिपूर्ण युग को पहचानिए -

- (A) मेजा बांध - कोटासी नदी
(C) नाहर सागर बांध - नगदी नदी

- (B) मावकुंडिया बांध - बनास नदी
(D) फतेह सागर बांध - बेड़च नदी

58. राजस्थान के पुरातात्विक स्थल और समीपस्थ नदी के त्रुटिपूर्ण युग को पहचानिए -

- (A) बागोर - कोटासी
(C) नगरी - बेड़च

- (B) सुनारी - कांठली
(D) नोह - बाणगंगा

59. अंग्रेजों से संधि करने वाला राजपूताना का अंतिम राज्य था -

- (A) उदयपुर

- (B) कोटा

- (C) सिरोही

- (D) जैसलमेर

60. राजस्थान की निम्न वस्तुओं में से किसे जी.आई. (भौगोलिक संकेत) देना नहीं मिला है?

- (A) बीकानेरी भुजिया
(C) जयपुर की ब्लू पॉटरी

- (B) कोटा डोरिया
(D) राजस्थान रावण हस्ता

61. जयसिंह सूरी निम्न में से किस पुस्तक के लेखक हैं?

- (A) राज प्रशास्ति
(C) कीर्तिस्तिभ प्रशास्ति

- (B) हमीर मद मर्दन
(D) ज्ञान मंजरी

62. वर्ष 2022-23 के आकड़ों के अनुसार सोयाबीन उत्पादन में राजस्थान का कौनसा स्थान है?

- (A) प्रथम

- (B) द्वितीय

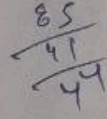

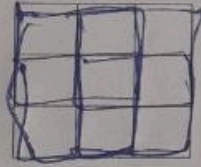
- (C) तृतीय

- (D) चतुर्थ

C-F 3-6 | 6-7 | 11-9 | 18-12 |
 0 | 1 | 6

2 भाग - अ
 मानसिक योग्यता

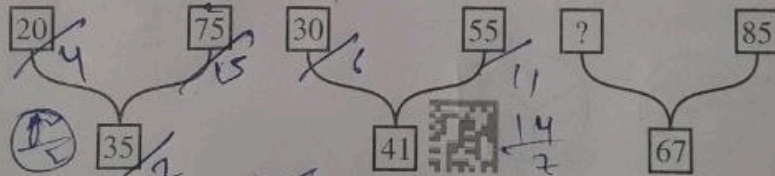
- दूसरे समूह में लुप्त पद ज्ञात कीजिए -
 AEJQ : BFKP :: CGLQ :
 (A) ENSY (B) DLNP (C) DHMR (D) FMPV
- निम्न श्रृंखला में अगला पद ज्ञात कीजिए -
 3F, 6G, 11I, 18L,
 (A) 21O (B) 25N (C) 25P (D) 27P
- निम्नलिखित में से "तीर : धनुष" के समान जोड़ा ज्ञात कीजिए -
 (A) फुटबॉल : हाथ (B) सलाद : चाकू (C) बुलेट : राइफल (D) धुआँ : पानी
- निम्न श्रृंखला का अगला पद ज्ञात कीजिए -
 19I, 58S, 94Y
 ADA, EHE, ILI,
 (A) JKJ (B) GJG (C) MPM (D) JHJ
- P, Q और R की उम्र का कुल योग 90 साल है। पाँच साल पहले उनकी उम्र का कुल योग कितना था?
 (A) 70 साल (B) 75 साल (C) 80 साल (D) 85 साल
- दिये गये चित्र में से कुल वर्गों की संख्या ज्ञात कीजिए -



904
 270
 255
 25

- (A) 10 (B) 14 (C) 12 (D) 16

7. निम्नलिखित में लुप्त संख्या भरें -



- (A) 35 (B) 40 (C) 45 (D) 50

8. रवि ने सीता से कहा, "तुम्हारी माँ मेरी दादी की बेटी हैं"। रवि और सीता एक दूसरे से किस प्रकार सम्बन्धित हैं?

- (A) चाचा - भतीजी (B) पिता - पुत्री
 (C) चचेरे/ममरे भाई-बहन (D) माता - पुत्र

9. एक लड़की ने एक लड़के का परिचय कराते हुए कहा, "यह मेरे चाचा के पिता की बेटी का बेटा है।" इस लड़के का उस लड़की से क्या रिश्ता है?

- (A) बहन (B) भाई (C) सगे भाई/बहन (D) बेटा

33. X, Y और Z की आयु का योग 45 वर्ष है। Y की आयु क्या है?

- कथन: (I) Y, X से 12 वर्ष बड़ा है।
(II) Z की आयु 15 वर्ष है।

- (A) केवल कथन (I) प्रश्न का उत्तर देने के लिए पर्याप्त है।
(B) केवल कथन (II) प्रश्न का उत्तर देने के लिए पर्याप्त है।
(C) दोनों कथन (I) और (II) प्रश्न का उत्तर देने के लिए पर्याप्त हैं।
(D) दोनों कथन (I) और (II) प्रश्न का उत्तर देने के लिए पर्याप्त नहीं हैं।

34. यदि नीचे को 'हरा' पुकारा जाये, 'हरे' को 'सफेद', 'सफेद' को 'लाल', 'लाल' को 'काला' तब साफ आकाश का रंग क्या होगा?

- (A) नीला (B) हरा (C) सफेद (D) काला

35. प्रश्न चिन्ह की जगह क्या आएगा?

A ₁	B ₅	C ₉
D ₁₃	E ₁₇	?
G ₇	H ₁₁	I ₅

- (A) F₂₁ (B) G₂₂ (C) H₂₃ (D) I₂₄



36. एक घड़ी 1 बजे चालू की जाती है। 5 बजकर 30 मिनट पर घंटे की सुई कितने डिग्री घूम चुकी होती है?

- (A) 115° (B) 135° (C) 140° (D) 155°

37. उस शब्द का पता लगायें जो दिये गए शब्द के अक्षरों से बनाया जा सकता है -

PRAGMATIC

- (A) GUITAR (B) AGMARK (C) GAME (D) MAGIC

38. निम्न श्रृंखला में आगे क्या आएगा?

- (A) (B) (C) (D)

39. यदि 'Y' कहता है कि उसकी माँ X की माँ की इकलौती बेटी है, तो 'X', 'Y' से किस प्रकार सम्बन्धित है?

- (A) चाचा (B) भाई (C) चाचेरा भाई (D) मामा

40. निम्न श्रृंखला को पूरा कीजिए -

- 5040, 720, 120, 24,
(A) 8 (B) 7 (C) 6 (D) 5

$$\frac{2x + y + z = 95}{2x + y + z = 105}$$

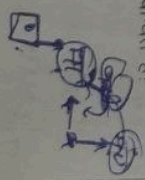
$$y = 2x + y = 135$$

निकालें
हरा - हरी
सफेद - बैंगनी

$$\frac{1830}{2} = 915$$

$$\frac{1830}{2} = 915$$

[5]



63. राजस्थान में 2024-25 के दौरान किस सेक्टर ने प्रयोजित मूल्यों पर सकल राज्य मूल्य वर्धन में सर्वाधिक योगदान दिया है?
- (A) कृषि (B) उद्योग (C) अवसरयमा (D) सेवा
64. निम्न में से कौन स्वतंत्रता सेनानी, 1954 से 1960 तक राज्य सभा के सदस्य रहे?
- (A) बलवंत सिंह मेहता (B) मास्टर आदित्येन्द्र
(C) जयनारायण व्यास (D) भाणिका लाल वर्मा
65. निम्न व्यक्तियों में से कौन राजस्थान विधान सभा के पूर्णकालिक अध्यक्ष नहीं रहे हैं?
- (A) नरोत्तम लाल जोशी (B) रामकिशोर व्यास
(C) निरंजन नाथ आचार्य (D) गुलाब चंद कटरिया
66. ओ.डी.ओ.पी. योजना के अंतर्गत जिले और उत्पाद के त्रुटिपूर्ण ग्राम को पहचानिए -
- (A) बारा - आम (B) अजमेर - गुलाब
(C) बुरू - भूगर्भी उत्पाद (D) सीकर - प्याज
67. निम्नलिखित में से किसने वीर भारत समाज की स्थापना की थी?
- (A) जमनालाल बजाज (B) मोतीलाल तेजावत
(C) भाणिक्य लाल वर्मा (D) विजय सिंह पथिक
68. विकसित राजस्थान @2047' में, वर्ष 2029 तक राज्य का लक्ष्य कितने मूल्य की अर्थव्यवस्था अर्जित करना है?
- (A) \$275 बिलियन (B) \$325 बिलियन
(C) \$350 बिलियन (D) \$450 बिलियन
69. राजस्थान के निर्माकित पुरातात्विक स्थलों में से किसका उत्खनन 1952-54 के दौरान स्मॉडियर पुरातात्विक दल द्वारा किया गया था?
- (A) रंग महल (B) जोधपुरा (C) गणेश्वर (D) भीममत्त
70. सूक्री नदी के किनारे, सोनिगिरी की पहाड़ियों पर कौनसा किला बना हुआ है?
- (A) गागरोन किला (B) शंकरदेवक किला
(C) जालौर किला (D) सिवाना किला
71. मौरिया, गुर्जर, कुट्ट, मांदल नृत्य हैं -
- (A) गरसिया के (B) भील के (C) गुर्जर के (D) कालवेरिया के
72. 26 जनवरी, 1950 को प्रारंभ हुए संविधान की प्रथम अनुसूची में अजमेर को किस रूप में अंगीकृत किया गया था?
- (A) पार्ट - A राज्य (B) पार्ट - B राज्य
(C) पार्ट - C राज्य (D) संघ शासित क्षेत्र
73. राजस्थान के राजवाडाल को पहचानिए, जिनकी पदावधि के दौरान अनुवर्ष 356 के अधीन राष्ट्रपति शासन केवल उद्घोषित किया गया, बावत नहीं लिया गया -
- (A) रणकुल किलक (B) हुकुम सिंह
(C) एम बेन्ना रेड्डी (D) बलिराम भागत
74. जोहर, खड़ीन और झालरा मिथिया हैं -
- (A) जल संरक्षण की (B) मृदा संरक्षण की
(C) वन्यजीव संरक्षण की (D) वीज संरक्षण की

87. निम्न में से कौन 'एकी आंदोलन' से संबंधित है?
 (A) मोतीलाल तेजावत
 (B) माणिक्य ताल वर्मा
 (C) नयनू राम शर्मा
 (D) कुंज बिहारी ताल मोदी
88. नागौर के राजपूत थोढ़ा अमर सिंह राठौड़ को निर्माकित में से किस बादशाह ने राठ की पदवी प्रदान की थी?
 (A) अकबर
 (B) जहाँगीर
 (C) शाहजहाँ
 (D) औरंगजेब
89. निर्माकित में से कौनसा एक दुर्ग करौली जिले में स्थित नहीं है?
 (A) तिमनगढ़
 (B) शेरगढ़
 (C) देवगिरि
 (D) उंटगिरी
90. बीजक की पहाड़ी में की गयी खुदाई में किस साम्राज्य के अवशेष मिले हैं?
 (A) मौर्य साम्राज्य
 (B) गुप्त साम्राज्य
 (C) चौल साम्राज्य
 (D) पांड्य साम्राज्य
91. 'गौदड़' नृत्य के संबंध में निर्माकित कथनों पर विचार कीजिए -
 (I) यह शेखावटी क्षेत्र का प्रसिद्ध लोक नृत्य है।
 (II) इसे केवल पुरुषों द्वारा किया जाता है।
 (A) केवल (I) सही है
 (B) केवल (II) सही है
 (C) न तो (I) ना ही (II) सही है
 (D) दोनों सही हैं
92. दो बावड़ियों से मिलकर बना 'नगर सागर कुंड' स्थित है -
 (A) दीसा में
 (B) बूंदी में
 (C) कोटा में
 (D) वित्तौड़गढ़ में
93. राजस्थानी काव्य-संग्रह 'गौव अर अम्मा' जिसे वर्ष 2024 का साहित्य अकादमी पुरस्कार मिला, के लेखक कौन हैं?
 (A) अंबिका दत्त
 (B) मुकुट मणिराज
 (C) नंदर सिंह सामोर
 (D) मीठेश निर्मोही
94. राजस्थान के लोक-संस्कारों की किस विधा से 'तुरा कलगी' संबंधित है?
 (A) ख्याल
 (B) तमाशा
 (C) रमल
 (D) रवांग
95. वाइभे की गिरल खदान और नागौर की मालासुख और कसनाऊ खदानों से कौनसा खनिज निकाला जाता है?
 (A) बॅटोनाइट
 (B) लिप्सम
 (C) लिनाइट
 (D) यूना पत्थर
96. 'सांडी कला' में किस देवी की पूजा की जाती है?
 (A) पार्वती
 (B) लक्ष्मी
 (C) सरस्वती
 (D) सीता
97. पुष्कर मेला किस माह में आयोजित होता है?
 (A) श्रावण
 (B) पौष
 (C) कार्तिक
 (D) भाद्रपद
98. निर्माकित में से राजस्थान के किस खिलौने को 2025 में अर्जुन पुरस्कार प्राप्त हुआ?
 (A) साक्षी कुमारी
 (B) मोना अग्रवाल
 (C) ओम प्रकाश मिठरवाल
 (D) सुंदर सिंह गुर्जर
99. राजस्थान की भीड़े पानी की झीलों के सही समूह को पहचानिए -
 (A) पिछोला, फरवह सागर, पद्मभद्रा
 (B) जयसमंद, डीडवाना, नक्की
 (C) राजसमंद, सिलीसेढ़, कोलायत
 (D) सागर, लूणकरणसर, आना, सागर
100. वर्तमान समय के कौनसे जिले महाभारत काल के 'जांगलदेश' के अंतर्गत आते थे?
 (A) बीकानेर - नागौर
 (B) उदयपुर - जोधपुर
 (C) अलवर - जयपुर
 (D) अलवर - भरतपुर

75. 73वें संविधान संशोधन अधिनियम, 1992 के तहत पंचायती की विशेष स्थिति को समाप्त करने एवं राजपूतल को शिकारिशे करने के लिये कौनसी संवैधानिक संस्था बनायी गयी है?

- (A) राजस्थान राज्य आयोगना बोर्ड
(B) राज्य विर आयोग
(C) पंचायत समिति
(D) जिला परिषद

76. निम्नांकित में से कौनसी एक नदी चबल नदी की सहायक नदी नहीं है?

- (A) काती सिंध (B) बाणगंगा (C) बनास (D) पादती
(A) होली (धुलडी) के दूसरे दिन 'बादशाह की सवारी' की शोभायात्रा कहीं निकाली जाती है?
(B) भीलवाड़ा (C) भीनमाल (D) व्यावर

77. निम्न में से कौन कभी भी राजस्थान विधान सभा में नेता प्रतिपक्ष नहीं रहे?

- (A) चरू (B) हरिदेव जोशी
(C) वैरो सिंह शेखावत (D) अशोक माहलोत

78. राजस्थान के स्थानों के सही समूह को पहचानिए, जिन पर सुलतान अलाउद्दीन खिलजी ने आक्रमण किया था -

- (A) चित्तौड़, जोधपुर, सिरसेही (B) रणथंभोर, चित्तौड़, जालौर
(C) जोधपुर, जालौर, चित्तौड़ (D) सिरसेही, रणथंभोर, जोधपुर

79. 'इन्ध्या पर्वत' किससे संबंधित है?

- (A) भील (B) गरासिया (C) भीणा (D) गुर्जर
(A) पड़ित विरय मोहन भट्ट को उनके एल्बम 'ए भीटिंग बाय द रिबर' के लिए 1994 में कौनसा पुरस्कार दिया गया था?
(A) संगीत नाटक अकादमी पुरस्कार (B) पद्म श्री
(C) ग्रैमी पुरस्कार (D) कालिदास सम्मान

80. शाहरुख खान अभिनीत फिल्म 'पहेली' इन्में से किस राजस्थानी लेखक की कहानी पर आधारित थी?

- (A) विजयदान देशा की 'दुविधा' (B) नाथमल जोशी की 'एक बाँदणी दो बाँद'
(C) लक्ष्मी कुमारी कुंडावत की 'माझल रात' (D) यादवेंद्र शर्मा 'चन्द्र की 'जोग-संजोग'

81. निम्नांकित में से जयपुर के किस दरवारी संगीतज्ञ ने 'रवर-सागर' नामक ग्रंथ लिखा था?

- (A) भट्ट द्वारकानाथ (B) देवर्षि भट्ट
(C) अती भगवान (D) चाँद खॉं

82. राजस्थान की जनगणना, 2011 से संबंधित कथनों पर विचार कीजिए -

- (I) राजस्थान की कुल जनसंख्या में से 24.9% लोग नगरीय क्षेत्र में रहते थे।
(II) राजस्थान में महिला साक्षरता दर 60.1% थी।
(A) केवल (I) सही है (B) केवल (II) सही है
(C) (I) व (II) दोनों सही हैं (D) न तो (I) ना ही (II) सही है

83. उन तीन स्थलों को पहचानिए, जहाँ 1787 से 1800 के दौरान चौथ वसूली के मुद्दे पर मराठों और राजपूत राज्यों के बीच युद्ध हुए -

- (A) इरड़ा, राजमहल, तुंगा (B) बूंदी, मालपुरा, अजमेर
(C) तुंगा, पाटन, मालपुरा (D) बनारू, पाटन, जयपुर

84. राजस्थान के निम्नांकित मंदिरों में से कौनसा एक मंदिर-स्थापत्य की 'भूमिज शैली' से संबंधित नहीं है?

- (A) महानालेश्वर, सैनताल (B) समाधीरवर मंदिर, चित्तौड़गढ़
(C) भांड देवरा, बारा (D) सूर्य मंदिर, रणकपुर